

**ОЛИМПИАДА ШКОЛЬНИКОВ ПО ОБЖ 2023–2024**  
**уч. г. ШКОЛЬНЫЙ ЭТАП**  
**10–11 классы**

***Уважаемый участник!***

Вам предстоит выполнить тестовые и теоретические (письменные) задания.

*Выполнение тестовых заданий целесообразно организовать следующим образом:*

- не спеша, внимательно прочитайте тестовое задание;
- определите, какой из предложенных вариантов ответа наиболее верный и полный;
- обведите кружком букву, соответствующую выбранному Вами ответу;
- продолжайте таким образом работу до завершения выполнения тестовых заданий;
- после выполнения всех предложенных заданий ещё раз удостоверьтесь в правильности выбранных Вами ответов;
- если потребуется корректировка выбранного Вами варианта ответа, то неправильный вариант ответа зачеркните крестиком, а новый выбранный ответ обведите кружком.

*Выполнение теоретических (письменных) заданий целесообразно организовать следующим образом:*

- не спеша, внимательно прочитайте задание и определите наиболее верный и полный ответ;
- отвечая на теоретический вопрос, обдумайте и сформулируйте конкретный ответ только на поставленный вопрос;
- если Вы отвечаете на задание, связанное с заполнением таблицы или схемы, не старайтесь детализировать информацию, вписывайте только те сведения или данные, которые указаны в вопросе;
- особое внимание обратите на задания, в выполнении которых требуется выразить Ваше мнение с учётом анализа ситуации или поставленной проблемы. Внимательно и вдумчиво определите смысл вопроса и логику ответа (последовательность и точность изложения). Отвечая на вопрос, предлагайте свой вариант решения проблемы, при этом ответ должен быть кратким, но содержать необходимую информацию;
- после выполнения всех предложенных заданий ещё раз удостоверьтесь в правильности выбранных Вами ответов и решений.

*Предупреждаем Вас, что:*

- при оценке тестовых заданий, где необходимо определить один правильный ответ, 0 баллов выставляется как за неверный ответ, а также, если участником отмечены несколько ответов (в том числе правильный) или все ответы;
- при оценке тестовых заданий, где необходимо определить все правильные ответы, 0 баллов выставляется, если участником отмечено большее количество ответов, чем предусмотрено в задании (в том числе правильные ответы), или все ответы.

Задание считается выполненным, если Вы вовремя сдаёте его членам жюри.

**Максимальная оценка за работу – 100 баллов.**

**Время проведения 2 урока**

***Желаем Вам успеха!***

## Тестовые задания

**Определите один правильный ответ.**  
За правильный ответ начисляется 2 балла.

1 **К какой группе относится изображённый знак безопасности?**

- а) пожарной безопасности
- б) запрещающие
- в) предупреждающие
- г) предписывающие



2 **Какое значение имеет визуальный международный сигнал «земля–воздух»?**

- а) «требуется помощь»
- б) «нет»
- в) «положительно»
- г) «требуется медицинская помощь»



3 **Циклон, возникающий в западной части Тихого океана, называется**

- а) тайфун
- б) смерч
- в) торнадо
- г) ураган

4 **Магнитуду землетрясения оценивают по шкале**

- а) Рихтера
- б) Бофорта
- в) Меркалли
- г) Саффира–Симпсона

5 **Одним из основных факторов, характеризующим опасность взрыва, является:**

- а) температура взрыва
- б) части разрушившихся конструкций
- в) повышенная температура окружающей среды
- г) осколки разрушившихся аппаратов

- 6 **Верны ли следующие суждения об энергетической ценности пищевых веществ?**  
**Организм человека получает 4,1 ккал энергии при расщеплении 1 грамма**  
**А. белков**  
**Б. углеводов**  
а) верно только А  
б) верно только Б  
в) верны оба суждения  
г) оба суждения неверны
- 7 **Какое действие необходимо выполнить после проведения сердечно-лёгочной реанимации, если у пострадавшего восстановилось самостоятельное дыхание и кровообращение?**  
а) вызвать скорую медицинскую помощь  
б) создать возвышенное положение верхней части туловища  
в) перевести пострадавшего в устойчивое боковое положение  
г) приподнять ноги пострадавшего
- 8 **Вооружённое столкновение ограниченного масштаба между государствами или противостоящими сторонами в пределах территории одного государства называется**  
а) локальная война  
б) региональная война  
в) военно-политический конфликт  
г) вооружённый конфликт
- 9 **Верны ли суждения о том, что воинская обязанность граждан Российской Федерации предусматривает**  
**А. пребывание в запасе**  
**Б. прохождение военной службы по призыву**  
а) верно только А  
б) верно только Б  
в) верны оба суждения  
г) оба суждения неверны
- 10 **Каков радиус убойного действия осколков ручной гранаты РГД -5?**  
а) 82 м  
б) 25 м  
в) 200 м  
г) 170 м

**Определите все правильные ответы.**

За каждый правильный ответ начисляется 2 балла.

- 11 **Что из перечисленного относится к сопутствующим проявлениям опасных факторов пожара?**
- а) снижение видимости в дыму
  - б) осколки
  - в) повышенная температура окружающей среды
  - г) радиоактивные и токсичные вещества и материалы, попавшие в окружающую среду
  - д) пламя и искры
- 12 **Если Вы поднимаетесь на лифте вместе с незнакомым человеком, то рекомендуется встать**
- а) к незнакомцу лицом
  - б) к незнакомцу боком
  - в) возле двери кабины
  - г) в дальнем углу кабины
  - д) лицом к кнопкам управления
- 13 **Наиболее опасными периодами схода лавин являются**
- а) зима с 10.00 до захода солнца
  - б) весна с 10.00 до захода солнца
  - в) лето с 10.00 до захода солнца
  - г) осень с 10.00 до захода солнца
- 14 **Верховые пожары подразделяются на**
- а) внезапные
  - б) беглые
  - в) устойчивые
  - г) кратковременные
  - д) плавные
- 15 **Какие признаки-улики могут говорить о том, что человек употребляет наркотики?**
- а) наличие свёрнутых в трубочку бумажек
  - б) покраснение кожи
  - в) синяки на коже
  - г) наличие перочинного ножа
  - д) наличие зубочисток

- 16 **Какие календари профилактических прививок утверждены Министерством здравоохранения РФ?**
- а) национальный
  - б) государственный
  - в) индивидуальный
  - г) по эпидемическим показаниям
  - д) по состоянию здоровья
- 17 **В зависимости от причины возникновения различают следующие виды ожогов:**
- а) температурные
  - б) биологические
  - в) электрические
  - г) лучевые
  - д) физические
- 18 **Какие страны входят в Североатлантический союз (НАТО)?**
- а) Ирландия
  - б) Португалия
  - в) Норвегия
  - г) Грузия
  - д) Австрия
- 19 **Защита Отечества для гражданина Российской Федерации является**
- а) долгом
  - б) предназначением
  - в) обязательством
  - г) правом
  - д) обязанностью
- 20 **Какие отравляющие вещества при боевом применении являются смертельными?**
- а) стафилококковый токсин
  - б) си-эс
  - в) би-зет
  - г) синильная кислота
  - д) фосген

**Максимум за тестовые задания – 60 баллов.**

## Теоретические задания

### Задание 1

**Укажите войсковые воинские звания солдат и сержантов Вооружённых Сил Российской Федерации и расположите их в порядке старшинства.**

---

---

---

---

---

---

---

---

---

---

---

**Максимум за задание – 10 баллов.**

### Задание 2






**Дополните рекомендации по безопасному поведению при химической аварии:**

- надеть \_\_\_\_\_ (1), закрыть окна и форточки;
- отключить нагревательные и бытовые электроприборы, газ, погасить огонь в печах, одеться, взять \_\_\_\_\_ (2) и запас продуктов;
- быстро выйти из жилого массива в указанном направлении в сторону, \_\_\_\_\_ (3) направлению ветра;
- в случае отсутствия средств индивидуальной защиты (противогазов, респираторов) использовать \_\_\_\_\_ (4) или изделия из ткани, смоченные водой;
- при движении по заражённой местности двигаться быстро, но не бежать и не поднимать \_\_\_\_\_ (5);
- не прислоняться к зданиям и не касаться окружающих предметов;
- после выхода из зоны заражения снять верхнюю одежду и оставить её на улице (принять душ с мылом, тщательно промыть глаза и прополоскать рот).

**Максимум за задание – 10 баллов.**

### Задание 7





Установите соответствие между дорожным знаком и группой, к которой он принадлежит. Соответствие отметьте знаком «+».

Предупреждающие знаки	Изображение	Знаки приоритета
		
		
		
		
		

Максимум за задание – 10 баллов.

### Задание 8

Установите соответствие между видом травмы и (или) состоянием пострадавшего и изображением оптимального положения тела: для каждой позиции первого столбца подберите соответствующую позицию из второго столбца, обозначенную цифрой. Ответ запишите в таблицу.

Вид травмы и (или) состояние пострадавшего		Оптимальное положение тела	
<b>А</b>	Одышка (затруднение дыхания), пострадавший в сознании	<b>1</b>	
<b>Б</b>	Травма живота, подозрение на внутреннее кровотечение	<b>2</b>	
<b>В</b>	Травма груди слева, отсутствие сознания	<b>3</b>	
<b>Г</b>	Острая кровопотеря (пульс на запястье не определяется), пострадавший в сознании	<b>4</b>	

<b>А</b>	<b>Б</b>	<b>В</b>	<b>Г</b>

**Максимум за задание – 10 баллов.**

**Максимальная оценка за работу – 100 баллов.**